

คำชี้แจง : แบบทดสอบนี้มีจำนวน 20 ข้อ ข้อละ 1 คะแนน คะแนนเต็ม 20 คะแนน  
ให้เวลาทำแบบทดสอบ 60 นาที

ให้เลือกคำตอบที่ถูกต้องที่สุดเพียงคำตอบเดียว โดยระบายคำตอบในกระดาษคำตอบ

1. ข้อใดเรียงลำดับจำนวนจากมากไปน้อยได้ถูกต้อง

1) 412 214 914 419

2) 187 710 170 817

3) 652 625 562 526

2. ข้อใดเรียงลำดับจำนวนจากน้อยไปมากได้ถูกต้อง

1) 363 336 274 247

2) 234 342 423 432

3) 526 562 652 625

3. มีปากกา 15 กล่อง กล่องละ 4 ด้าม นำไปแจกเพื่อน 10 คน คนละเท่า ๆ กัน จะได้

คนละกี่ด้าม เขียนเป็นประโยคสัญลักษณ์ได้อย่างไร

1)  $(15 \div 4) \times 10 = \square$

2)  $(15 \times 10) \div 4 = \square$

3)  $(15 \times 4) \div 10 = \square$

4. เกมมีเงิน 253 บาท ก้อยมีเงินน้อยกว่าเกม 145 บาท กุ้งมีเงินมากกว่าก้อย 224 บาท

กุ้งมีเงินกี่บาท

1) 398 บาท

②) 332 บาท

3) 108 บาท



5. ต่อมหยอดกระปุกออมสินวันแรก 135 บาท วันที่สองหยอดมากกว่าวันแรก 40 บาท

ต่อมมีเงินในกระปุกออมสินทั้งหมดกี่บาท

1) 135 บาท

2) 175 บาท

③) 310 บาท



6. สมพรใช้เวลาเดินทางไปโรงเรียน 20 นาที ถ้าสมพรออกจากบ้านเวลา 6 นาฬิกา

15 นาที สมพรจะถึงโรงเรียนเวลาใด

①) 6 นาฬิกา 35 นาที

2) 6 นาฬิกา 40 นาที

3) 6 นาฬิกา 45 นาที



7. ข้าวฟ่างเริ่มทำงานบ้านเวลา 10.35 น. ใช้เวลา 1 ชั่วโมง 40 นาที ข้าวฟ่าง  
 จะทำงานบ้านเสร็จในเวลาใด

ชั่วโมง	:	นาที	น.
10		35	
1		45	
11		80	

- (1) 11.35 น.
- (2) 11.25 น.
- (3) 12.15 น.



8. สุขชาติยืนบนเก้าอี้ที่สูง 42 เซนติเมตร จะมีความสูงทั้งหมด 1 เมตร 93 เซนติเมตร  
 อยากทราบว่า ความสูงจริงของสุขชาติเท่ากับกี่เซนติเมตร

เมตร	:	เซนติเมตร
1		93
0		42
1		51

- (1) 151 เซนติเมตร
- 2) 193 เซนติเมตร
- 3) 235 เซนติเมตร



9. เสาธงสูง 10 เมตร ยูโรสูง 1 เมตร 35 เซนติเมตร เสาธงสูงกว่ายูโรเท่าไร

เมตร	:	เซนติเมตร
10		35
1		35
9		00

- (1) 8 เมตร 65 เซนติเมตร
- 2) 9 เมตร 35 เซนติเมตร
- 3) 11 เมตร 35 เซนติเมตร



10. ตุเรียนลูกที่ 1 หนัก 1 กิโลกรัม 8 ซีด ลูกที่สองหนัก 1 กิโลกรัมครึ่ง ตุเรียนทั้งสองลูก  
หนักรวมกันเท่าไร

- 1) 3 กิโลกรัม 2 ซีด
- 2) 3 กิโลกรัม 3 ซีด
- 3) 3 กิโลกรัม 4 ซีด

ก.ก	ซิด	
1	8	+
1	50	
2	58	
ก.ก	ซิด	
1	8	
1	5	
		3

11. โหนก 47 กิโลกรัม เหน้กมากกว่าไอ 12 กิโลกรัม ออมหนักน้อยกว่าเอ 23 กิโลกรัม  
และออยหนักมากกว่าอม 16 กิโลกรัม ข้อใดถูกต้อง

- 1) ~~ออยหนักน้อยกว่าไอ~~
- 2) ~~อมหนักมากกว่าเอ~~
- 3) เหน้กมากกว่าออย

12.



พริกไทย 9 ลิตร



งาดำ 12 ลิตร



เม็ดแมงลัก 15 ลิตร

จากภาพ ข้อใดถูกต้อง

- 1) งาดำมีปริมาตรน้อยกว่าเม็ดแมงลัก 2 ลิตร
- 2) เม็ดแมงลักมีปริมาตรมากกว่าพริกไทย 6 ลิตร ✓
- 3) พริกไทยมีปริมาตรมากกว่างาดำ 3 ลิตร

13. ถังใบที่ 1 มีความจุ 10 ลิตร ถังใบที่ 2 มีความจุมากกว่าใบที่ 1 อยู่ 5 ลิตร

ถังใบที่ 3 มีความจุน้อยกว่า ถังใบที่ 1 อยู่ 2 ลิตร ถังทั้งสามใบจุน้ำรวมกันกี่ลิตร

- 1) 8 ลิตร
- 2) 15 ลิตร
- 3) 33 ลิตร ✓

14. ข้อใดกล่าวถูกต้อง



ถัง

ความจุ 9 ลิตร



แกลลอน

ความจุ 12 ลิตร



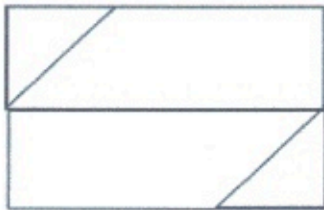
ขวด

ความจุ 2 ลิตร

- 1) ถังมีความจุน้อยที่สุด
- 2) แกลลอนมีความจุมากกว่าขวด 10 ลิตร
- 3) ขวดมีความจุมากกว่าถัง 2 ลิตร



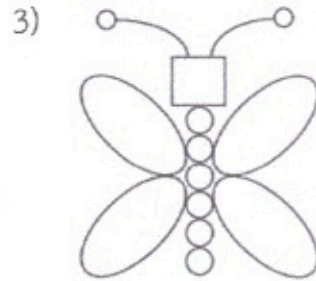
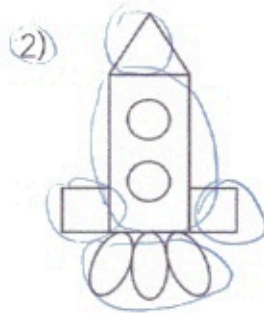
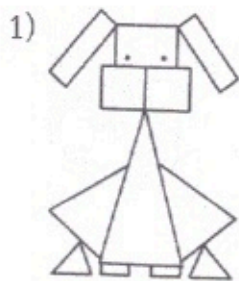
15. จากรูปมีรูปสามเหลี่ยมทั้งหมดกี่รูป



- 1) 2 รูป
- 2) 3 รูป
- 3) 4 รูป



16. ภาพใดประกอบด้วยรูปสามเหลี่ยม รูปสี่เหลี่ยม รูปวงกลม และ รูปวงรี ครบทั้ง 4 ชนิด



17. คุณครูให้นักเรียนจัดกลุ่มตามลักษณะของรูปที่กำหนดให้ ดังนี้

จากภาพ ใครจัดกลุ่มได้ถูกต้องทุกรูป

แก้วตา
รูปสี่เหลี่ยมมุมฉาก

ออมสิน
ทรงกลม

ใบบัว
ทรงสี่เหลี่ยมมุมฉาก

1) แก้วตา

2) ออมสิน

3) ใบบัว



18. จำนวนผลไม้ที่ร้านขายผลไม้ขายได้ใน 1 สัปดาห์

ส้ม	○ ○ ○
มะม่วง	○ ○ ○ ○
ชมพู่	○ ○
แอปเปิล	⑩ ⑩ ⑩ ⑩ ⑩

กำหนด ○ แทนจำนวนผลไม้ 10 กิโลกรัม






จากแผนภูมิรูปภาพ ร้านขายผลไม้ขายแอปเปิลได้มากกว่าส้มกี่กิโลกรัม

- 1) 20 กิโลกรัม
- 2) 12 กิโลกรัม
- 3) 10 กิโลกรัม



19.

น้ำหนักผลไม้ที่แม่ค้าขายได้

สับปะรด	
มังคุด	
มะละกอ	
ส้ม	
มะม่วง	

กำหนดให้ 1 รูป แทนน้ำหนักของผลไม้ 5






จากแผนภูมิรูปภาพ น้ำหนักของมะละกอน้อยกว่าน้ำหนักของมังคุดที่แม่ค้าขายได้  
อยู่ที่กี่โลกรัม

- 1) 4 กิโลกรัม
- 2) 10 กิโลกรัม
- 3) 20 กิโลกรัม



20.

จำนวนไอศกรีมที่ร้านค้าขายได้ในเวลา 5 วัน

จันทร์	
อังคาร	
พุธ	
พฤหัสบดี	
ศุกร์	

กำหนดให้  แทนจำนวนไอศกรีม 10 แท่ง

จำนวนไอศกรีมที่ขายได้ในวันศุกร์มากกว่าจำนวนไอศกรีมที่ขายได้ในวันจันทร์กี่แท่ง

- 1) 10 แท่ง
- 2) 20 แท่ง
- 3) 30 แท่ง

